

ČETRTEK, 10. 12. 2020

## LUM

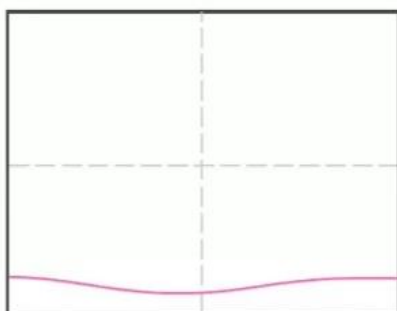
Sledite sličicam in ustvarite zasneženo mesto. Osnovo najprej narišite s flumastrom, nato pa pobarvajte z barvicami, voščenkami, vodenimi barvicami ali temperami. Veliko užitka pri ustvarjanju. ☺



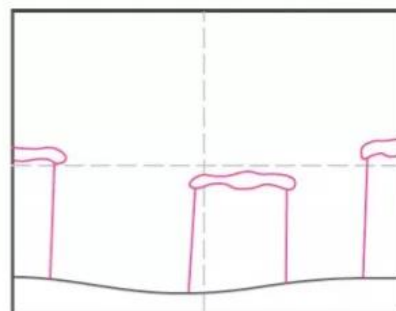
**FOTOGRAFIRAJ  
IZDELEK IN POŠLJI!**



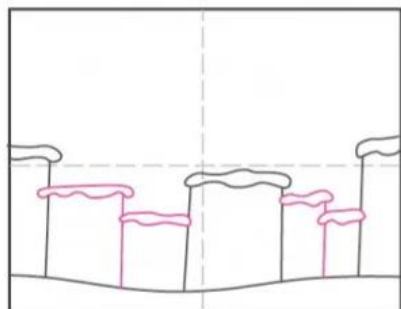
Supplies: permanent marker, watercolor, paint



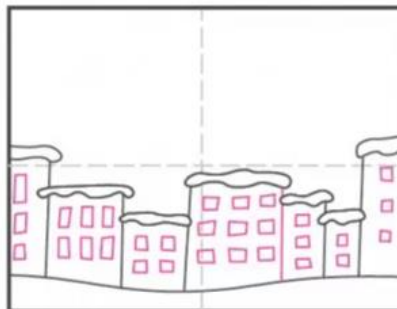
1. Make guide lines. Draw snow base line.




2. Draw three large buildings with snow tops.



3. Add smaller buildings in between.



4. Draw windows in all the buildings.



5. Draw three large swirls in the sky.



6. Fill the sky with more swirl lines.



7. Trace lines with marker and paint buildings.



8. Paint sky blue. Trace swirl lines with more blue.  
When dry, sprinkle sky with white tempera for snow.

## MAT

Rešite besedilne naloge v zvezek. Naloge oštevilčite (naslov: VAJA in datum).

1. Izračunaj razliko števil 578 in 300.
2. Izračunaj vsoto števil 567 in 20.
3. Številu 678 odštej 8 in razliki prištej 60. Koliko dobiš?
4. Matejeva palica je dolga 80 cm. Andrejeva 40 cm, Borisova pa 260 cm. Koliko so dolge vse skupaj?
5. Sadjar je obral 240 kg sadja. 70 kg je bilo hrušk, drugo so bila jabolka. Koliko kilogramov jabolk ima pripravljenih za na tržnico?
6. Maja je prebrala tri knjige. Prva ima 140 strani, druga 200, tretja pa 60 strani. Koliko strani je prebrala skupaj?

**FOTOGRAFIRAJ ZAPIS V  
ZVEZKU IN POŠLI.**



Utrujte računanje do 1000 na povezavi:

[https://interaktivne-vaje.si/matematika/mat\\_1000/racunam\\_do\\_1000\\_sestevanje\\_odstevanje.html](https://interaktivne-vaje.si/matematika/mat_1000/racunam_do_1000_sestevanje_odstevanje.html)

SLJ

**ČESTITKA**

Poglejte si posnetek in sledite navodilom:

[https://youtu.be/lx-i\\_2fT9uM](https://youtu.be/lx-i_2fT9uM)

**FOTOGRAFIRAJ ZAPIS  
IN POŠLI!**

