

**TOREK, 30. 11. 2021**


## **1. URA – SLOVENŠČINA: PRAVLJICA MIŠKA SPI**

NA SPLETNI STRANI V TABELI TEGA TEDNA NAJDEŠ  
DODATNO GRADIVO Z NASLOVOM **MIŠKA SPI**.

ODPRI GA.

SLEDI NAVODILOM.

PRAVLJICO PA LAHKO NAJDEŠ TUDI V BERILU NA STR. 76  
IN 77.



## **2. URA – SLOVENŠČINA: ČIGAVO JE KAJ?**

**POTREBOVAL/A BOŠ DELOVNI ZVEZEK, ZVEZEK IN PERESNICO.**

ODPRI DZ NA STRANI **58 IN 59**. DOBRO SI OGLEJ FOTOGRAFIJE NA STR. 58 IN  
PREBERI KAJ PIŠE POD NJIMI.

NA STR. 59 PA TEBE ČAKA DELO. 🙌 OGLEJ SI SLIČICE IN ZAPIŠI TAKO KOT  
KAŽE PRVI PRIMER (OČKOV AVTO).

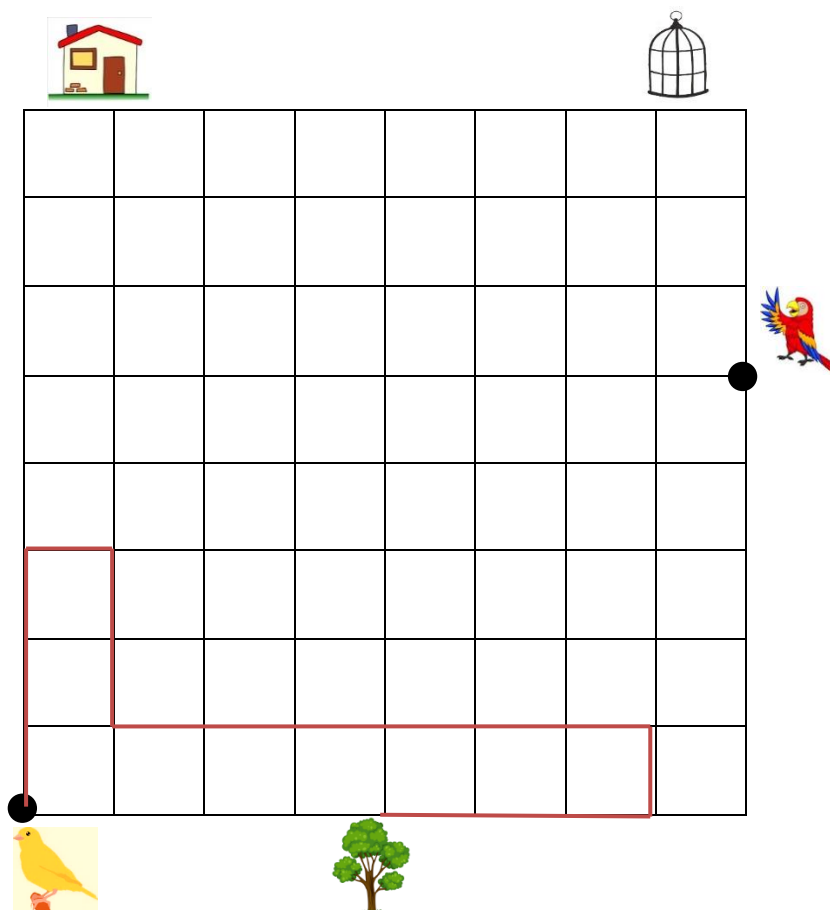
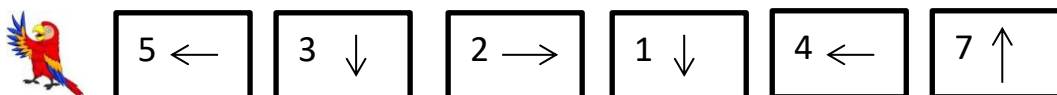
SEDAJ PA ŠE MALO PISANJA. 🖋️ V POVEDIH UPORABI BESEDE IZ TRETJEGA  
STOLPCA (VSAJ 5 SLIČIC). POVEDI ZAPIŠI V ZVEZEK.

### 3. URA – MATEMATIKA: MREŽA IN RAČUNAM DO 20

POTREBOVAL/A BOŠ DELOVNI ZVEZEK, ZVEZEK IN PERESNICO.

PONOVI SVOJE ZNANJE IN REŠI SPODNJO MREŽO.

NARIŠI POT PAPIGE, KOT KAŽE NAVODILO. S  OZNAČI KANARČKOVO POT DO CILJA.



SEDAJ TE PA ČAKA MALO PONAVLJANJA. REŠI NALOGE V DELOVNEM ZVEZKU NA STRANI 61.

PRI DRUGI NALOGI MORAŠ PREČRTANE RAČUNE PREPISATI V ZVEZEK IN JIH IZRAČUNATI. V ZVEZEK ZAPIŠI NASLOV VAJA IN DANAŠNJI DATUM.

REŠITVE NALOG:

1. NALOGA:  $15 - 6$ ;  $17 - 8$ ;  $13 - 4$ ;  $18 - 9$ ;  $7+7$ ;  $8+6$ ;  $9+5$ ;  $6+6$ ;  $18-6$ ;  $7+5$ ;  $15-8$ ;  $7-0$ ;  $13-6$ ;  $12-5$
2. NALOGA: PREČRTANI RAČUNI:  $16 - 6 = 11$ ;  $13-3=16$ ;  $9+5=13$ ;  $10-8=12$ ;  $20-8=13$ ;  $8+7=16$ ;  $14-2=16$ ;  $17-9=3$   
PRAVILNI REZULTATI TEH RAČUNOV:  $16-6= 10$ ;  $13-3=10$ ;  $9+5=14$ ;  $10-8=2$ ;  $20-8=12$ ;  $8+7=15$ ;  $14-2=12$ ;  $17-9= 8$

#### 4. URA – ŠPORT: VODENJE ŽOGE



UTRJUJ VODENJE ŽOGE.