

Ponedeljek, 17. 1. 2022

SLJ **Pesem Škrat Dobrošin – B 94,95**

Nekatere škrate že poznaš.

Danes bomo spoznali škrate Dobrošina.

To je takšne vrste škrate, da bedi podnevi in ponoči.

Kaj misliš, zakaj mu je tako ime?



Odpri berilo na strani 94. Preberi pesmico, ki jo je napisal Srečko Kosovel: **Škrat Dobrošin**.

Ustno odgovori na vprašanja:

Ti je všeč?

Si ugotovil, zakaj ima škrate takšno ime?

Kaj počne ves dan?

Kaj skriva v skrinji?

Komu bi jih dal?

Ali pesnik ve, kje ima škrate svoj dom?

Kaj bi ga prosil?

Ponovno preberi pesmico v berilu in dopolni manjkajoče rime v spodnji pesmici.

Prepiši jo v zvezek. Saj še veš, kako se pišejo pesmice?

*Zapis v zvezku:









Vaja

Škrat Dobrošin

Majhen škrate je Dobrošin,
ali velik _____:
skrinjo zlatnikov ima,
skrbno čuva jih _____;
a če prideš in ga prosiš,
jih dobiš, da komaj _____.

Da bi vedel, kje domuje,
kje skopuško jih _____,
šel bi prosit ga vsak čas
zlatov zase in za _____.

[Preglej zapis, popravi napake.](#) Nauči se pesmico.

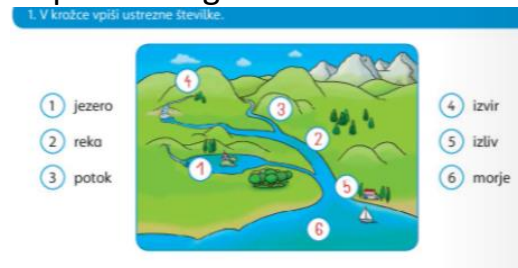
<p>GUM</p>	<p>Škrat Dobrošin DZ 24 Doživeto beri pesmico in se jo nauči zapeti. Melodijo najdeš v deželi Lilibi. Oglej si pesmico v glasbeni slikanici. Preizkusi se v spremljavi s svojimi glasbili.</p>	
<p>MAT</p>	<p>Polovica – DZ 16, 17 V življenju moramo stvari včasih razdeliti na pol. Če imaš brata ali sestro, potem že veš, da je pomembno, da si razdelita pravično – vsakemu enak del – polovico.</p> <div style="text-align: center;">  </div> <div style="display: flex; justify-content: space-around; align-items: center;"> <div style="text-align: center;">  <p>To je ena polovica.</p> </div> <div style="text-align: center;">  <p>To je ena polovica.</p> </div> </div> <p>Poglej, preberi in reši naloge na strani 16, 17. S spodnjimi rešitvami preveri, ali si pravilno reševal:</p> <div style="display: flex; justify-content: space-around;"> <div data-bbox="300 1160 726 1603"> <p>3. Narisi rumen kvadrat. Polovico kvadrata poborvaj z modro barvo.</p> <p>4. Poborvaj 1/2 vsakega lika.</p>  <p>Na koliko enakih delov je razdeljen vsak lik? Na dva enaka dela.</p> <p>4. Babica je svojima vnukoma razdelila tri jagnjati. Vsak jagnj je dobil polovico. Koliko jagnjati je dobil vsak?</p>  <p>Odgovor: Vsak je dobil 1 jagnjat.</p> <p>4. Kmetu bon podobila 1 najlepši truš. Koliko trušev mu dobil Bine?</p>  <p>Odgovor: Bine mu dobil 1 truška.</p> <p>4. Teta je imela 6 avtomobilov. 1 jih je posodila Žani. Koliko avtomobilov je preostalo? Okoliži.</p>  <p>Odgovor: Preostali so 5 avtomobilov.</p> </div> <div data-bbox="790 1160 1189 1344"> <p>5. Z enako barvo poborvaj polovici lika, ki spadata skupaj.</p>  </div> </div>	
<p>ŠPO</p>	<p>Vadi stojjo na lopaticah in preval naprej, tako kot smo delali v šoli. Pozoren bodi na zaključek po dejavnosti.</p>	
<p>SPO</p>	<p>Reka in jezero Življenje v jami</p> <p>Pri prejšnji uri spoznavanja okolja si spoznal park. Park je UMETNO življenjsko okolje, ker ga je ustvaril človek.</p>	

Pri današnji uri pa boš izvedel več o treh NARAVNIH življenjskih okoljih. To so **reka, jezero in jama**.

Si vedel/a, da mimo Hrastnika teče najdaljša slovenska reka Sava? Poišči podatek o tem, koliko znaša njena dolžina v Sloveniji in skozi katere države še teče.

Preberi besedilo v SDZ str. 42, 43 in si oglej fotografije ter poslušaj posnetke na povezavi Lilibi.

*Izpolni naloge na straneh 42 in 43. Preveri rešitve:



Če želiš, se lahko z vlakcem popelješ skozi Postojnsko jamo:

<https://www.youtube.com/watch?v=u3CE6hzDEOA>