

PREVERJANJE ZNANJA – MATEMATIKA

2. RAZRED

IME IN PRIIMEK: _____

DATUM: _____

	DOSEGA	DELNO DOSEGA	ŠE NE DOSEGA
Sešteva in odšteva v množici naravnih števil do 20. 1., 2., 3. NALOGA	(18 – 20T)	(10 – 17T)	(9T in manj)
Prepozna in poimenuje osnovna geometrijska telesa in like ter like tudi nariše s šablono. 4., 5., 6. NALOGA	(9 – 10T)	(5 – 8T)	(4T in manj)
Razvrsti predmete, like, telesa ter razvrstitev prikaže v preglednici. 7. NALOGA	(8T)	(7 – 4T)	(3T in manj)

1. IZRAČUNAJ.

$2 + 12 = \underline{\quad}$

$7 + 8 = \underline{\quad}$

$13 + 6 = \underline{\quad}$

$17 + 0 = \underline{\quad}$

$9 + 8 = \underline{\quad}$

$20 - 11 = \underline{\quad}$

$18 - 13 = \underline{\quad}$

$14 - 6 = \underline{\quad}$

$15 - 14 = \underline{\quad}$

$11 - 10 = \underline{\quad}$

___/10

2. ZAPIŠI NEZNANI ČLEN.

$\underline{\quad} - 8 = 12$

$13 + \underline{\quad} = 19$

$20 - \underline{\quad} = 3$

$\underline{\quad} + 5 = 18$

$18 - \underline{\quad} = 12$

$\underline{\quad} - 12 = 1$

___/6

3. IZRAČUNAJ.

$11 - 8 - 0 = \underline{\quad}$


$20 + 0 - 10 = \underline{\quad}$

$13 + 6 - 4 = \underline{\quad}$

$8 + 7 + 3 = \underline{\quad}$

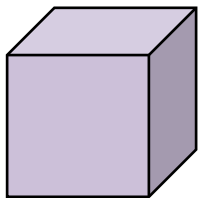
___/4

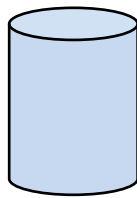
4. NADALJUJ ZAPOREDJE. UPORABI ŠABLONO.



___/2

5. POIMENUJ TELESA.









___/4

6. RIŠI PO NAVODILIH. UPORABI ŠABLONO.

Z RDEČO BARVICO NARIŠI TRIKOTNIK.

Z MODRO BARVICO NARIŠI PRAVOKOTNIK.

Z ZELENO BARVICO NARIŠI KROG.

Z ORANŽNO BARVICO NARIŠI KVADRAT.

